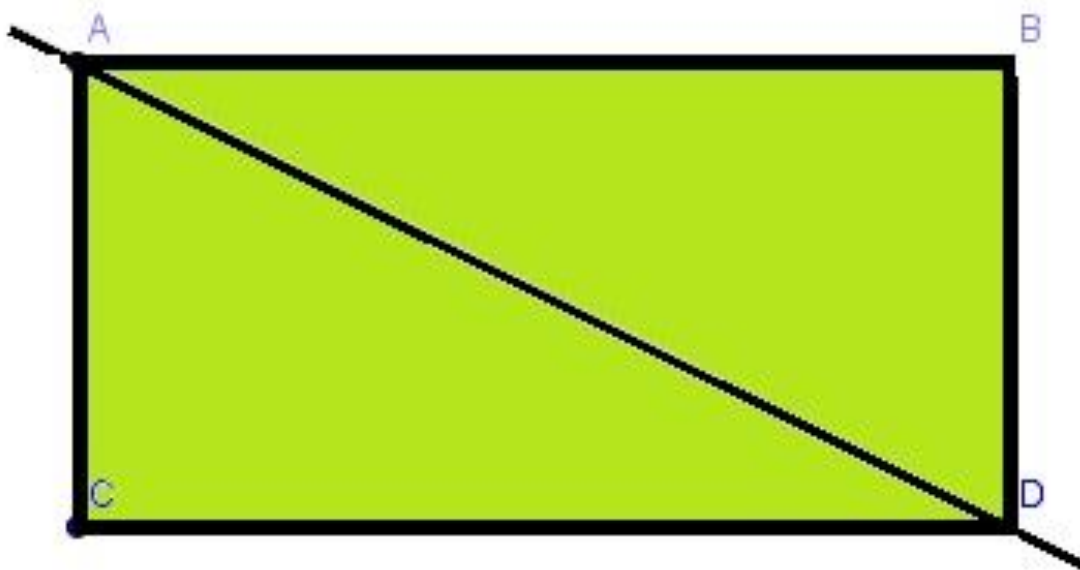
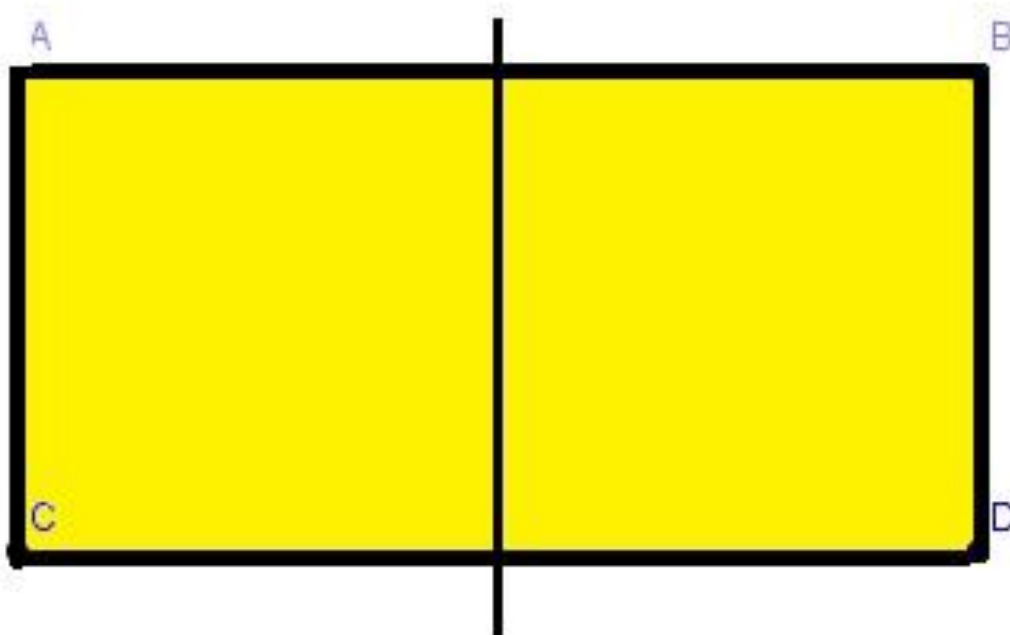
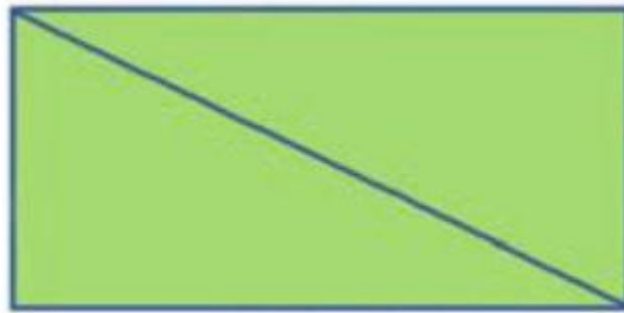


FICHA DE ATIVIDADE 2 – ORNAMENTOS NO PLANO EUCLIDIANO

Passo 1) Nas figuras a seguir, dobre a folha no eixo demarcado e verifique se é ou não um eixo de simetria.



Passo 2) Existem ainda os casos de **assimetria**. Observe a figura a seguir.



A imagem anterior é um retângulo como o do exemplo do passo 1, porém, ao traçarmos sua diagonal formamos imagens simétricas? Será que ao dobrarmos a folha a partir da linha divisória as imagens se sobrepõem?

R: _____

Podemos chamar a diagonal de eixo de simetria? Por quê?

R: _____

Passo 4) Em quais figuras a linha em destaque é o eixo de simetria? Marque (✓) os casos de simetria.

